

Fiche d'exercices

Additions en colonne avec retenue - Décompositions



1 **Décompose** les nombres.

$10+10+10+10+4=.....$

$43 =$

$10+10+10+7=$

$58 =$

2 **Ecris** les nombres dans l'ordre croissant et décroissant.

46 - 35 - 69 - 37 - 72


46 - 60 - 40 - 33 - 22

--	--	--	--	--

--	--	--	--	--


3 **Ecris** une opération pour résoudre les problèmes.

Dans mon château il y a et
Combien a-t-il de fantômes en tout ?



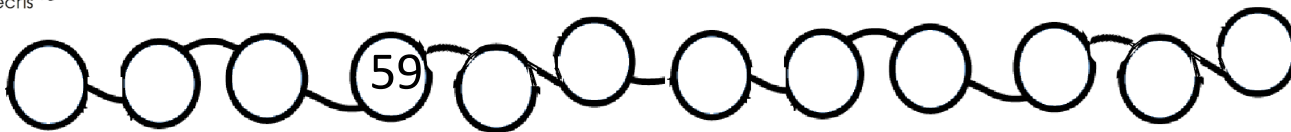
Il y a fantômes dans mon château .

Dans mon château il y a ...
Le chasseur attrape 4 fantômes.
Combien reste-t-il de fantômes ?



Il reste fantômes dans mon château .

4 **Ecris** les nombres dans les cases.



5 **Ecris** les nombres dans les cases.

+2	2										
----	---	--	--	--	--	--	--	--	--	--	--

+10	10										
-----	----	--	--	--	--	--	--	--	--	--	--





6



Ecris les résultats des opérations, tu peux t'aider de ton ardoise.

$27 + 15 = \dots\dots\dots$

d	u
○	
.....
+	
.....
.....

$25 + 36 = \dots\dots\dots$

d	u
○	
.....
+	
.....
.....

$24 + 43 = \dots\dots\dots$

d	u
○	
.....
+	
.....
.....

$33 + 33 = \dots\dots\dots$

d	u
○	
.....
+	
.....
.....

7



Ecris la table des doubles.

..... + = + = + = + = + =
-----------------------	--	-----------------------	--	-----------------------	--	-----------------------	--	-----------------------

8



Complète les soustractions.

$9 - 3 = \dots\dots$

$9 - 4 = \dots\dots$

$9 - 5 = \dots\dots$

$8 - 7 = \dots\dots$

$8 - 8 = \dots\dots$

$8 - 0 = \dots\dots$

$7 - 2 = \dots\dots$

$7 - 3 = \dots\dots$

$7 - 4 = \dots\dots$

9



Ecris le résultat des additions.

$10 + 2 + 5 = \dots\dots\dots$

$20 + 0 = \dots\dots\dots$

$38 + 20 = \dots\dots\dots$

$2 + 8 - 4 = \dots\dots\dots$

$10 + 3 + 4 = \dots\dots\dots$

$40 + 7 = \dots\dots\dots$

$57 + 10 = \dots\dots\dots$

$3 + 7 - 5 = \dots\dots\dots$

$10 + 6 + 5 = \dots\dots\dots$

$40 + 20 = \dots\dots\dots$

$21 + 30 = \dots\dots\dots$

$7 + 3 - 6 = \dots\dots\dots$

$10 + 7 + 1 = \dots\dots\dots$

$50 + 30 = \dots\dots\dots$

$52 + 20 = \dots\dots\dots$

$9 + 1 - 3 = \dots\dots\dots$

