

Prénom :

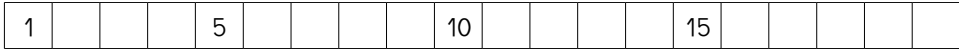

Date :

# Les nombres de 1 à 20

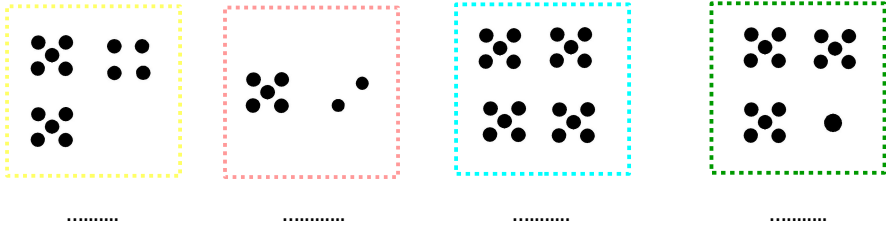
1 Complète la bande numérique.



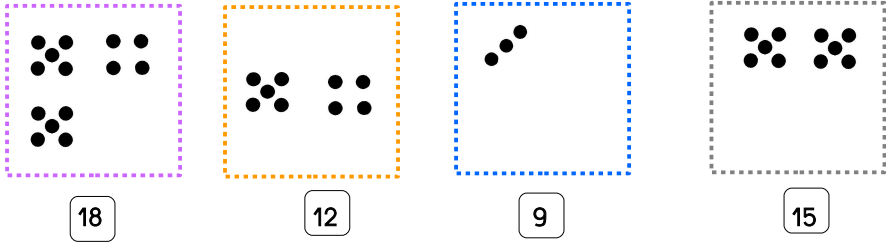
2 Écris les nombres donnés.



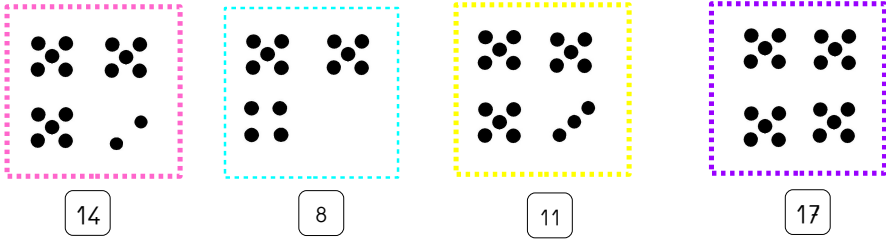
3 Écris le nombre de points.



4 Dessine les points qui manquent.



5 Barre les points en trop.



Prénom :

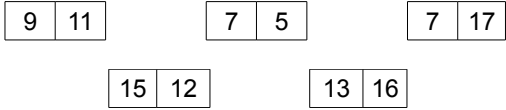
Date :

# Les nombres de 1 à 20

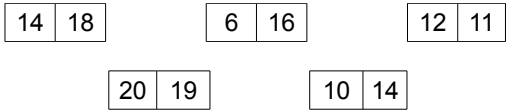
1 Écris le nombre qui vient juste avant et le nombre qui vient juste après le nombre donné.

	8	
	12	
	15	
	19	
	17	
	4	
	20	

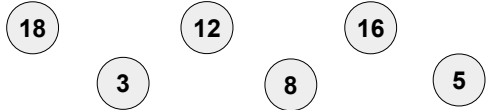
2 Entoure le plus petit des 2 nombres.



3 Entoure le plus grand des 2 nombres.



4 Range de plus petit au plus grand.



http://fee-des-ecoles.fr